

PROVISIONAL ANSWER KEY

NAME OF THE POST :

- 1). Women and Child Officer, Class-I, (ATU)(Advt. No. : 58/2016-17)
- 2). Asst. Director IT Directorate of ICT and E-Governance, Class-I,(AUV)
(Advt. No. : 67/2016-17)

Date of Preliminary Test : 29/01/2017

Subject : General Study (Que. 001 to 100)

- 001.** કલા પ્રકાર અને સ્થળને યોગ્ય રીતે ગોઠવો.
- | | |
|---------------------------|------------------------|
| (1) લાલ રંગની મીનાકારી | (A) હૈદરાબાદ |
| (2) ગુલાબી રંગની મીનાકારી | (B) સુરત |
| (3) કાળા રંગની મીનાકારી | (C) જયપુર |
| (4) જરદોશીકામ | (D) વારાણસી |
| (A) 1-C, 2-D, 3-A, 4-B | (B) 1-D, 2-A, 3-B, 4-C |
| (C) 1-A, 2-B, 3-C, 4-D | (D) 1-B, 2-C, 3-D, 4-A |
- 002.** નાટ્યપ્રકાર અને તેનું ઉદ્ભવસ્થાન અથવા તેના વિસ્તાર યોગ્ય રીતે ગોઠવો.
- | | |
|------------------------|------------------------|
| (1) ભરત નાટ્યમ્ | (A) તામિલનાડુ |
| (2) કૂચીપુડી | (B) આંધ્ર |
| (3) કથકવી | (C) કેરળ |
| (4) લાવણી | (D) મહારાષ્ટ્ર |
| (A) 1-B, 2-C, 3-D, 4-A | (B) 1-A, 2-B, 3-C, 4-D |
| (C) 1-C, 2-D, 3-A, 4-B | (D) 1-D, 2-C, 3-A, 4-B |
- 003.** ભારતના અગત્યના ધોધ (Waterfall) અને તેનાં રાજ્યોને યોગ્ય રીતે જોડો.
- | | |
|---------------------------|------------------------|
| (1) તાલકોના (Talkona) | (A) આરખંડ |
| (2) ચુલ્લા (Chulla) | (B) રાજસ્થાન |
| (3) લોઢ (Lodh) | (C) આંધ્ર પ્રદેશ |
| (4) કપીલધારા (Kapildhara) | (D) મધ્ય પ્રદેશ |
| (A) 1-D, 2-C, 3-B, 4-A | (B) 1-A, 2-D, 3-C, 4-B |
| (C) 1-C, 2-B, 3-A, 4-D | (D) 1-B, 2-A, 3-D, 4-C |
- 004.** નેશનલ પાર્ક અને સંબંધીત વિસ્તારને યોગ્ય રીતે ગોઠવો.
- | | |
|------------------------------------|------------------------|
| (1) માઉન્ટ હેરીયેટ (Mount Harriet) | (A) અંદામાન નીકોબાર |
| (2) નંદપુહા (Nandpuha) | (B) અરુણાચલ પ્રદેશ |
| (3) વાલ્મીકી (Valmiki) | (C) બિહાર |
| (4) અન્શી (Anshi) | (D) કર્ણાટક |
| (A) 1-D, 2-A, 3-B, 4-C | (B) 1-C, 2-D, 3-A, 4-B |
| (C) 1-B, 2-C, 3-D, 4-A | (D) 1-A, 2-B, 3-C, 4-D |

005. વીજ ઉત્પાદન/સિંચાઈ યોજનાઓ અને રાજ્યોને યોગ્ય રીતે ગોઠવો.
- | | |
|--------------------------------------|-------------------------|
| (1) નાગાર્જૂન સાગર (Nagarjuna Sagar) | (A) તામીલ નાડુ |
| (2) કોષી (Kosi) | (B) આંધ્ર પ્રદેશ (A.P.) |
| (3) તવા (Tawa) | (C) બિહાર |
| (4) કુન્ડાહ (Kundah) | (D) મધ્ય પ્રદેશ |
- (A) 1-B, 2-C, 3-D, 4-A (B) 1-C, 2-D, 3-A, 4-B
(C) 1-D, 2-A, 3-B, 4-C (D) 1-A, 2-B, 3-C, 4-D
006. અગત્યના કારખાનાઓ અને સંબંધીત રાજ્યોને યોગ્ય રીતે ગોઠવો.
- | | |
|--|------------------|
| (A) હિન્દુસ્તાન કેબલ | (1) મધ્ય પ્રદેશ |
| (B) હિન્દુસ્તાન એલ્યુમિનીયમ (Alluminium) | (2) મહારાષ્ટ્ર |
| (C) રાષ્ટ્રીય કેમિકલ એન્ડ ફર્ટીલાઈઝર (RCF) | (3) ઉત્તર પ્રદેશ |
| (D) સિક્યુરીટી પેપર મિલ્સ (Security Paper Mills) | (4) પશ્ચિમ બંગાળ |
- (A) A-3, B-2, C-1, D-4 (B) A-4, B-3, C-2, D-1
(C) A-2, B-1, C-4, D-3 (D) A-1, B-4, C-3, D-2
007. ભારત અને ગુજરાતમાં કુલ વસ્તીનાં કેટલાં ટકા લોકો ગ્રામ્ય વિસ્તાર (Rural Area) માં રહે છે?
- | | |
|-------------------|-------------------|
| (A) 68.8 અને 57.4 | (B) 57.4 અને 68.8 |
| (C) 67.4 અને 57.4 | (D) 57.4 અને 67.4 |
008. ભારત અને ગુજરાતમાં સાક્ષરતા દર (Literacy Rate) કેટલો છે?
- | | |
|---------------|---------------|
| (A) 73 અને 78 | (B) 78 અને 73 |
| (C) 63 અને 68 | (D) 68 અને 63 |
009. દેશમાં સેક્સ રેશીયો (દર 1000 પુરૂષો દીઠ સ્ત્રીઓની સંખ્યા) કયા રાજ્યમાં સૌથી વધારે છે? (2011 ની વસ્તી ગણતરીના આધારે)
- | | |
|------------|---------------|
| (A) ગોવા | (B) કેરળ |
| (C) ગુજરાત | (D) ઉત્તરાખંડ |

010. ભારતમાં કયા રાજ્યમાં ડેન્સિટી ઓફ પોપ્યુલેશન (Density of Population) સૌથી ઓછી છે?
 (A) સિક્કીમ (B) મેઘાલય
 (C) મિઝોરામ (D) અરુણાચલ પ્રદેશ
011. ગુજરાતમાં કયા જિલ્લામાં સ્ત્રીઓનો સાક્ષરતા દર (Literacy Rate) સૌથી વધારે છે?
 (A) બનાસકાંઠા (B) સુરત
 (C) મહેસાણા (D) અમદાવાદ
012. ગુજરાતમાં કેટલાં ટકા લોકો કામદાર (Worker) તરીકે 2011 ના સેન્સેસમાં દર્શાવવામાં આવેલ છે?
 (A) 41 (B) 42
 (C) 43 (D) 44
013. ભારત દેશમાં અને ગુજરાત રાજ્યમાં 25થી 59 વય જુથ ધરાવતાં લોકો કુલ વસ્તીના કેટલાં ટકા છે? (સને 2011 ની વસ્તી ગણતરી મુજબ)
 (A) 41.1 અને 43.5 (B) 43.5 અને 41.1
 (C) 46.4 અને 43.5 (D) 43.5 અને 46.4
014. મહાત્મા ગાંધીજી દ્વારા ‘અસહકારનું આંદોલન’ ચળવળ કયા કારણથી પાછું ખેંચી લેવામાં આવેલ હતું?
 (A) સરકાર દ્વારા દમન શરૂ કરવાથી (B) લોકો દ્વારા પુરતો સહકાર ન મળવાથી
 (C) ચૌરીચૌરાની ઘટનાથી (D) સરકારશ્રી સાથે સમાધાન થવાથી
015. સહસ્રલિંગ તળાવ કોણે બંધાવેલ હતું?
 (A) મીનળ દેવી (B) અજય પાળ
 (C) ભીમદેવ પહેલો (D) સિદ્ધરાજ જયસિંહ
016. કવિ અને તેમની રચનાઓને યોગ્ય રીતે ગોઠવો.
 (1) નરસિંહ મહેતા (A) સંતો! અમે વહેવારિયા
 (2) મીરાંબાઈ (B) ગોર્વીદો પ્રાણ અમારો રે
 (3) અનિલ જોશી (C) કન્યા વિદાય
 (4) દામોદર બોટાદકર (D) ચંદન
 (A) 1-A, 2-B, 3-C, 4-D (B) 1-B, 2-C, 3-D, 4-A
 (C) 1-C, 2-D, 3-A, 4-B (D) 1-D, 2-A, 3-B, 4-C

017. સામાન્ય રીતે ધાતુમય ખનીજોને કેટલાં પ્રકારમાં વહેંચવામાં આવે છે?
- (A) બે (2) (B) ત્રણ (3)
(C) ચાર (4) (D) પાંચ (5)
018. “જૈવિક આરક્ષિત ક્ષેત્ર” કાર્યક્રમ કોના દ્વારા બનાવવામાં આવેલ હતો?
- (A) યુનેસ્કો (UNESCO) (B) યુનીસેફ (UNICEF)
(C) યુનો (UNO) (D) સીક્યુરીટી કાઉન્સિલ
019. સ્થાપત્ય અને તેના સ્થળને ગોઠવો.
- (1) જામા મસ્જિદ (A) બીજાપુર
(2) અદીના મસ્જિદ (B) જૈનપુર
(3) અટાલા મસ્જિદ (C) પંડુઆ
(4) ગોળગુંબજ (D) અમદાવાદ
- (A) 1-A, 2-D, 3-C, 4-B (B) 1-B, 2-A, 3-D, 4-C
(C) 1-D, 2-C, 3-B, 4-A (D) 1-C, 2-B, 3-A, 4-D
020. ગુફાઓ અને તેનાં સ્થાનને યોગ્ય રીતે ગોઠવો.
- (1) ઢાંક (Dhank) (A) રાજકોટ જિલ્લો
(2) બડસે (Bedse) (B) પુણે જિલ્લો
(3) અજંતા ઈલોરા (C) ઔરંગાબાદ જિલ્લો
(4) ઉદયગીરી (D) વીદીશા જિલ્લો
- (A) 1-B, 2-C, 3-D, 4-A (B) 1-A, 2-B, 3-C, 4-D
(C) 1-C, 2-D, 3-A, 4-B (D) 1-D, 2-A, 3-B, 4-C
021. મહાનુભાવોનું નામ અને જુદુનામ (Sobriquet) યોગ્ય રીતે જોડો.
- (1) અબ્દુલ ગફારખાન (A) શાંતિદૂત
(2) બાળ ગંગાધર ટીળક (B) દેશબંધુ
(3) સી. આર. દાસ (C) લોકમાન્ય
(4) લાલ બહાદુર શાસ્ત્રી (D) સરહદનાં ગાંધી
- (A) 1-A, 2-D, 3-C, 4-B (B) 1-B, 2-A, 3-D, 4-C
(C) 1-C, 2-B, 3-A, 4-D (D) 1-D, 2-C, 3-B, 4-A

022. નામ અને તેનાં જુદા નામ (Sobriquets) ને જોડો.

- | | |
|---|-----------------------------|
| (1) સોરો ઓફ બંગાલ
(Sorrow of Bengal) | (A) દામોદર નદી |
| (2) બ્લુ માઉન્ટેન
(Blue Mountains) | (B) નીલગીરી પર્વતો |
| (3) ભારતનો બગીચો
(Garden of India) | (C) બેંગલુરુ
(Bangaluru) |
| (4) પીંક સીટી (Pink City) | (D) જયપુર |
- (A) 1-A, 2-B, 3-C, 4-D (B) 1-B, 2-C, 3-D, 4-A
(C) 1-C, 2-D, 3-A, 4-B (D) 1-D, 2-A, 3-B, 4-C

023. જોવાલાયક સ્થળો અને સ્થળને યોગ્ય રીતે ગોઠવો.

- | | |
|-----------------------|----------------|
| (1) આનંદ ભવન | (A) દિલ્હી |
| (2) દેલવાડાનાં મંદીરો | (B) માઉન્ટ આબુ |
| (3) ગેટ વે ઓફ ઈન્ડીયા | (C) મુંબઈ |
| (4) વિજય ઘાટ | (D) અલ્હાબાદ |
- (A) 1-B, 2-C, 3-A, 4-D (B) 1-D, 2-B, 3-C, 4-A
(C) 1-C, 2-A, 3-D, 4-B (D) 1-A, 2-D, 3-B, 4-C

024. મોગલ બાદશાહ અને પ્રસંગ/સ્થળને યોગ્ય રીતે ગોઠવો.

- | | |
|-------------|---|
| (1) બાબર | (A) તેઓનો જન્મ અમરકોટમાં થયેલ હતો |
| (2) હુમાયુ | (B) મોગલ સામ્રાજ્યનાં સ્થાપક |
| (3) અકબર | (C) શેરશાહે તેઓને લખ્તનાં યુદ્ધમાં હરાવેલા હતા. |
| (4) ઔરંગઝેબ | (D) બીજાપુર અને ગોલકોંડા ઉપર વિજય |
- (A) 1-D, 2-B, 3-C, 4-A (B) 1-A, 2-D, 3-B, 4-C
(C) 1-B, 2-C, 3-A, 4-D (D) 1-C, 2-A, 3-D, 4-B

025. ભક્તી ચળવળ (Movement) નાં જોડકાઓ યોગ્ય રીતે જોડો.

- | | |
|------------------|--|
| (1) શંકરાચાર્ય | (A) દ્વૈત તત્ત્વજ્ઞાન
(Dvaita Philosophy) |
| (2) મહાદેવાચાર્ય | (B) લીંગાયત સંપ્રદાય
(Lingayat Sect.) |
| (3) બસવા | (C) પરમાર્થ (Parmartha) |
| (4) રામદાસ | (D) શૈવવાદ (Shivadvaite) |
- (A) 1-A, 2-B, 3-C, 4-D (B) 1-D, 2-A, 3-B, 4-C
(C) 1-B, 2-C, 3-D, 4-A (D) 1-C, 2-D, 3-A, 4-B

026. ગવર્નર/વાઈસરોય અને તેઓના કાર્યને જોડો.

- | | |
|--|---|
| (1) રોબર્ટ ક્વાઈવ | (A) બંગાળમાં ડ્યુઅલ સરકારની સ્થાપનાં
(Dual Government) |
| (2) વોરન હેસ્ટીંગ | (B) મહેસુલી અધીકારીઓની નિમણુંક |
| (3) વિલીયમ બેન્ટીંગ
(William Bentinck) | (C) પ્રથમ ગવર્નર જનરલ |
| (4) ચાર્લ્સ મેટકાલફે
(Charles Metcalfe) | (D) પ્રેસ ઉપરના પ્રતિબંધ દૂર કર્યા |
| (A) 1-A, 2-B, 3-C, 4-D | (B) 1-B, 2-C, 3-D, 4-A |
| (C) 1-C, 2-D, 3-A, 4-B | (D) 1-D, 2-A, 3-B, 4-C |

027. સ્વાતંત્ર્યસંગ્રામ દરમ્યાનની સંસ્થાઓ અને તેનાં વિસ્તારને યોગ્ય રીતે જોડો.

- | | |
|---------------------------------|------------------------|
| (1) સ્વદેશી વસ્તુ સંરક્ષક મંડળી | (A) નાગપુર |
| (2) સ્વદેશી મિત્ર મંડળ | (B) મુંબઈ |
| (3) ભારતીય રાષ્ટ્રીય કોંગ્રેસ | (C) બંગાળ |
| (4) ઝંડા સત્યાગ્રહ | (D) અમદાવાદ |
| (A) 1-C, 2-B, 3-A, 4-D | (B) 1-D, 2-C, 3-B, 4-A |
| (C) 1-B, 2-A, 3-D, 4-C | (D) 1-A, 2-D, 3-C, 4-B |

028. ભરતકામ અને તેનાં સ્થળોને યોગ્ય રીતે ગોઠવો.

- | | |
|------------------------|--|
| (1) મોચી ભરત | (A) ભાવનગર જીલ્લામાં ગારિયાધાર વિસ્તાર |
| (2) કાઠી ભરત | (B) સૌરાષ્ટ્ર વિસ્તાર |
| (3) કણબી ભરત | (C) ખાવડા, બન્ની વિસ્તાર |
| (4) મોતી ભરત | (D) અમરેલી જીલ્લો |
| (A) 1-D, 2-C, 3-B, 4-A | (B) 1-A, 2-D, 3-C, 4-B |
| (C) 1-B, 2-A, 3-D, 4-C | (D) 1-C, 2-B, 3-A, 4-D |

029. ગુજરાત રાજ્યમાં ભૂગર્ભજળનો વૈજ્ઞાનિક પદ્ધતિથી અંદાજ કાઢી, પાતાળકુવા દ્વારા જળ વિતરણ, અને અન્ય માધ્યમો દ્વારા પાણીનાં વિતરણની જવાબદારી કોને સોંપવામાં આવેલી છે?

- | | |
|----------|------------|
| (A) GSFC | (B) GWRDCL |
| (C) GMDC | (D) GIIC |

030. ગુજરાત રાજ્યનાં મુખ્ય પ્રધાનો અને તેમનાં સમયકાળનાં આધારે પ્રથમથી નીચેનાં ક્રમમાં ગોઠવો.

- | | |
|------------------------|------------------------|
| (1) મા. જીવરાજ મહેતા | (A) પ્રથમ |
| (2) બળવંતરાય મહેતા | (B) બીજા |
| (3) હિતેન્દ્રભાઈ મહેતા | (C) ત્રીજા |
| (4) ઘનશ્યામ ભાઈ ઓઝા | (D) ચોથા |
| (A) 1-B, 2-C, 3-D, 4-A | (B) 1-A, 2-B, 3-C, 4-D |
| (C) 1-C, 2-D, 3-A, 4-B | (D) 1-D, 2-A, 3-B, 4-C |

031. સંશોધન શૈક્ષણિક સંસ્થાઓ અને તેનાં મુખ્ય મથકોને યોગ્ય રીતે જોડો.

- | | |
|---------------------------------------|------------------------|
| (1) CEPT | (A) આણંદ |
| (2) સેન્ટ્રલ સોલ્ટ રીસર્ચ ઇનસ્ટીટ્યુટ | (B) વડોદરા |
| (3) GETRI | (C) ભાવનગર |
| (4) IRMA | (D) અમદાવાદ |
| (A) 1-B, 2-A, 3-D, 4-C | (B) 1-C, 2-B, 3-A, 4-D |
| (C) 1-D, 2-C, 3-B, 4-A | (D) 1-A, 2-D, 3-C, 4-B |

032. લેખક અને લેખન પ્રકારને યોગ્ય રીતે જોડો.

- | | |
|------------------------|-------------------------------|
| (1) શ્રી ચિનુ મોદી | (A) નાટક : એક ઉંદર અને જટુનાથ |
| (2) શ્રી ગિજુભાઈ બધેકા | (B) ટૂંડીવાર્તા - 'ટોખુ' |
| (3) ઘનશ્યામ દેસાઈ | (C) બાળ વાર્તાઓ |
| (4) લાભશંકર ઠાકર | (D) ગઝલ - સ્થળાંતર |
| (A) 1-C, 2-B, 3-A, 4-D | (B) 1-B, 2-A, 3-D, 4-C |
| (C) 1-D, 2-C, 3-B, 4-A | (D) 1-A, 2-D, 3-C, 4-B |

033. આખરી (Human Development Index) HDI રીપોર્ટ મુજબ ભારત કયા ક્રમે આવે છે? (2015 માં જાહેર થયેલ અહેવાલ મુજબ)

- | | |
|---------|---------|
| (A) 130 | (B) 135 |
| (C) 140 | (D) 125 |

034. બેંકો દ્વારા “પ્રાયોરીટી લેન્ડિંગ” (Priority Landing) આપવામાં આવે છે તેમાં કોનો સમાવેશ થાય છે?

- | | |
|-----------------------|-------------------------------------|
| (1) કૃષિ ધીરાણ | (2) માયક્રો અને લઘુ ઉદ્યોગોને ધીરાણ |
| (3) નબળા વર્ગને ધીરાણ | (4) ઉપરોક્ત બધાજ |
| (A) 1 | (B) 2 |
| (C) 3 | (D) 4 |

035. 'Marginal Standing Facility Rate' અને 'Net Demand and Time Liabilities' જેવાં શબ્દો ક્યાં ક્ષેત્રમાં ઉપયોગમાં લેવાય છે?
- (A) બેંકીંગ ક્ષેત્ર (B) સંદેશ વ્યવહાર ક્ષેત્ર
(C) સંરક્ષણ ક્ષેત્ર (D) ખેતીવાડી ક્ષેત્ર
036. ભારતના અર્થતંત્રનાં સંદર્ભમાં નીચેનાં વાક્યો/વાક્ય સાચું છે?
- (1) "Rate of growth of Real Gross Domestic Product" છેલ્લાં દસકામાં વધેલ છે.
(2) "The Gross Domestic Product at Market Price in Rupees" છેલ્લાં દસકામાં વધેલ છે.
- (A) 1 (B) 2
(C) 1 અને 2 (D) 1 અથવા 2 પૈકી એકપણ નહીં.
037. નીચેનાં પૈકી ક્યા ખર્ચાઓને બજેટમાં 'Non-plan expenditure' ગણવામાં આવે છે?
- (1) સંરક્ષણ લગતા ખર્ચાઓ
(2) સબસીડી લગતા યોજનાઓનાં ખર્ચાઓ
(3) પાછલી યોજનાઓનાં નહીં ચુકવાયેલ ખર્ચાઓ
(4) વ્યાજ ચુકવણી
- (A) 1 અને 2 (B) 1 અને 3
(C) 2 અને 4 (D) 1, 2, 3 અને 4
038. "Energy Statistics" કોના દ્વારા બહાર પાડવામાં આવે છે?
- (A) સેન્ટ્રલ પાવર રીસર્ચ સંસ્થા
(B) આંકડા અને પ્રોગ્રામ ઈમ્પ્લીમેન્ટેશન મંત્રાલય
(C) નીતિ આયોગ
(D) પાવર ફાયનાન્સ કોર્પોરેશન
039. "Inclusive Growth" માં કઈ બાબતનો સમાવેશ થતો નથી.
- (A) ગરીબીમાં ઘટાડો
(B) રોજગારીની તકોમાં વધારો
(C) મુડી બજાર (Capital Market) ચેતનવંત બનાવવું
(D) જેન્ડર ઈનઈકવાલીટી દુર કરવી
040. લોકસભામાં જો બજેટ (Budget) ના મંજૂર થાય તો.
- (A) જરૂરી સુધારા વધારા સાથે પુનઃ રજૂ કરવામાં આવે છે.
(B) મંજૂરી અર્થે રાજ્ય સભાને મોકલવામાં આવે છે.
(C) નાણામંત્રી રાજનામું આપે છે.
(D) વડા પ્રધાનશ્રી મંત્રી મંડળનું રાજનામું આપે છે.

041. અર્થતંત્રનો વિકાસ (Economic Growth) ને સામાન્ય રીતે કોની સાથે સાંકળવામાં આવે છે?
- (A) મંદી Deflation (B) તેજી Inflation
(C) સ્ટેગફ્લેશન Stagflation (D) હાઇપર ઈન્ફ્લેશન Hyperinflation
042. જ્યારે RBI દ્વારા બેંક રેટમાં (Rate) ઘટાડો કરવામાં આવે છે ત્યારે.
- (A) બજારમાં તરલતાં (Liquidity) વધે છે.
(B) બજારમાં તરલતાં ઘટે છે.
(C) તરલતામાં કોઈ ફેરફાર થતો નથી.
(D) બેન્કોને વધારે ડીપોઝીટ મળે છે.
043. નીચેનાં પૈકી કયાં કારણસર બજારમાં નાણાનો પુરવઠો (Money Supply) વધશે?
- (1) સેન્ટ્રલ બેંક દ્વારા સરકારી જામીનગીરીની ખરીદી
(2) પ્રજા દ્વારા બેંકોમાં રોકાણ
(3) સરકાર દ્વારા સેન્ટ્રલ બેંકમાથી ધીરાણ મેળવવું
(4) સેન્ટ્રલ બેંક દ્વારા સરકારી જામીનગીરીનું વેચાણ
- (A) 1 અને 2 (B) 2 અને 3
(C) 1 અને 3 (D) 1, 2, 3, અને 4
044. ડેમોગ્રાફિક ડીવીડન્ડ (Demographic Dividend) મેળવવા શુ કરવું જરૂરી છે?
- (A) સ્કીલ ડેવલપમેન્ટની તકો વધારવી
(B) સમાજ સુરક્ષાની યોજનાઓ અમલમાં મુકવી
(C) બાળ મરણનો દર ઘટાડવો
(D) ઉચ્ચ શિક્ષણનું ખાનગીકરણ કરવું
045. જ્યારે વ્યાજનો દર ઘટાડવામાં આવે છે ત્યારે
- (A) અર્થતંત્રમાં (Consumption Expenditure) માં ઘટાડો થાય છે.
(B) કરવેરાનું કલેક્શન (Collection) વધે છે.
(C) રોકાણો અને તેનાં સંબંધીત ખર્ચાઓ વધે છે (Investment in plant machinery etc. are increased)
(D) લોકોની બચત વધે છે (Increase in total savings by public in the economy)
046. ભારતનાં બંધારણમાં 42 મો સુધારો ક્યારથી અમલી બનેલ છે?
- (A) તા. 13 જાન્યુઆરી 1977 (B) તા. 3 જાન્યુઆરી 1977
(C) તા. 23 જાન્યુઆરી 1977 (D) તા. 1 જાન્યુઆરી 1977

047. “ભારતમાં કોઈ નાગરિકની સામે ફક્ત ધર્મ, જાતિ, જ્ઞાતિ, લિંગ, જન્મસ્થાન અથવા એમાનાં કોઈ કારણો રાજ્ય ભેદભાવ કરી શકશે નહીં.”
આ જોગવાઈ ક્યા આર્ટિકલમાં દર્શાવવામાં આવેલી છે?
(A) 14 (B) 15
(C) 16 (D) 17
048. માર્ગદર્શક સિદ્ધાંતો દેશના વહીવટમાં મૂળભૂત છે અને કાયદો કરતી વખતે આ સિદ્ધાંતો લાગુ પાડવા તે રાજ્યની ફરજ છે.
આ જોગવાઈ ક્યા આર્ટિકલમાં દર્શાવવામાં આવેલી છે?
(A) 36 (B) 37
(C) 38 (D) 39
049. “રાજ્ય સભાની રચનામાં માન. રાષ્ટ્રપતિ 12 સભ્યોની નિયુક્તી કરી શકે છે.”
આ જોગવાઈ ક્યા આર્ટિકલમાં જણાવેલ છે?
(A) 76 (B) 77
(C) 79 (D) 80
050. નીચેના પૈકી કઈ સંસ્થા દ્વારા રાજ્યની પંચાયત સંસ્થાઓની નાણાંકીય સ્થિતી ચકાસવામાં આવે છે અને કરાવેરા અને અન્ય બાબતોની ફાળવણી માટે રાજ્ય સરકારને ભલામણ કરે છે?
(A) જીલ્લાં આયોજન મંડળ (B) રાજ્ય ફાયનાન્સ કમિશન
(C) રાજ્યના નાણામંત્રીશ્રી (D) રાજ્યના પંચાયત મંત્રીશ્રી
051. રાષ્ટ્રપતિની ચૂંટણીમાં મતદાર કોણ હોઈ શકે.
(1) સંસદમાં બંને ગૃહોના ચૂંટાયેલા સભ્યો
(2) રાજ્યોની વિધાન સભાઓનાં ચૂંટાયેલા સભ્યો ઉપરોક્ત 1 અને 2 પૈકી ક્યુ વિધાન/વિધાનો સાચાં છે?
(A) 1 (B) 2
(C) 1 અને 2 (D) 1 અને 2 પૈકી એકપણ નહીં.
052. રાજ્યની કારોબારી સત્તા (executive power) કોનામાં નિહિત થાય છે?
(A) માન. રાષ્ટ્રપતિશ્રી (B) માન. રાજ્યપાલશ્રી
(C) માન. મુખ્યમંત્રીશ્રી (D) માન. નાણામંત્રીશ્રી
053. “રાજ્ય-સેવાઓમાં ન્યાયતંત્રને કારોબારીતંત્રથી અલગ કરવા રાજ્ય પગલા ભરશે.”
આ જોગવાઈ ક્યા આર્ટિકલમાં દર્શાવવામાં આવેલી છે?
(A) 48 (B) 49
(C) 50 (D) 51

054. એટર્ની જનરલ દ્વારા જે કાર્યો કરવાના રહે છે તેની જોગવાઈ બંધારણના ક્યા આર્ટિકલમાં કરવામાં આવેલી છે?
 (A) 75 (B) 76
 (C) 77 (D) 78
055. નીતિ આયોગ દ્વારા 'AIM' શરૂ કરવામાં આવનાર છે તેનું સંપૂર્ણ નામ શું છે?
 (A) અટલ ઈન્નોવેશન મીશન (Atal innovation mission)
 (B) એપ્લીકેશન ઈન્નોવેશન મીશન
 (C) અજ્ય ઈવેન્ટ મીશન
 (D) અમર ઈકોનોમીક મીશન
056. “દરેક રાજ્યમાં ગામ, મધ્યવર્તી અને જિલ્લા સ્તરે પંચાયતની રચના કરવી ફરજિયાત છે.” આ જોગવાઈ બંધારણના ક્યા આર્ટિકલમાં કરવામાં આવેલી છે?
 (A) 243 B (1) (B) 243 A
 (C) 243 C (1) (D) 243 D (1)
057. કેન્દ્રીય માહિતી પંચની સત્તા અને કાર્યો RTI અધિનિયમની કઈ કલમમાં દર્શાવેલ છે?
 (A) 17 (B) 18
 (C) 19 (D) 20
058. ચૂંટણી આયોગમાં મુખ્ય ચૂંટણી કમિશનર અને અન્ય કમિશનરોની નિમણૂક કોણ કરે છે?
 (A) માન. રાષ્ટ્રપતિશ્રી (B) માન. વડાપ્રધાનશ્રી
 (C) માન. નાણાંમંત્રીશ્રી (D) માન. કાયદામંત્રીશ્રી
059. સંઘ આયોગ અથવા ચૂંટણી આયોગમાં અધ્યક્ષશ્રી અને સભ્યોની નિમણૂક કોણ કરે છે?
 (A) માન. રાષ્ટ્રપતિશ્રી (B) માન. ઉપરાષ્ટ્રપતિશ્રી
 (C) માન. વડાપ્રધાનશ્રી (D) માન. રાજ્યપાલશ્રી
060. હાલમાં કેન્દ્રીય સતર્કતા આયોગ (CVC) નાં સેન્ટ્રલ વીજીલન્સ કમિશનર (Central Vigilance Commissioner) તરીકે કોણ કાર્યવંત છે?
 (A) શ્રી વિનોદ રાય (B) શ્રી એ. એન. તિવારી
 (C) શ્રી. K. V. ચૌધરી (D) શ્રી રાધાક્રિષ્ણ માથુર

061. ખાલી જગ્યામાં યોગ્ય શબ્દ ગોઠવો.

AZ, CX, FU,

(A) JQ

(B) KP

(C) IR

(D) IV

062. એક ઘડીયાળમાં મીનીટ દર્શાવતો કાંટો 1 કલાક અને 10 મિનિટ (70 મિનિટ) ફરે છે. આ સંજોગોમાં મિનિટ કાંટો કેટલાં અંશ ફરશે.

(A) 360

(B) 420

(C) 480

(D) 540

063. જો SAND = VDQC, BIRD = ELUG. ત્યાં તો LOVE માટે કયો શબ્દ બનશે.

(A) PRYG

(B) ORTC

(C) NPUH

(D) ORYH

064. નીચેનાં ચિત્રમાં કેટલાં ત્રિકોણ છે?



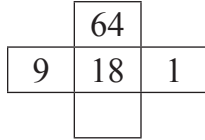
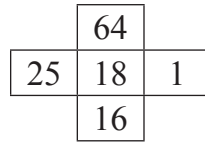
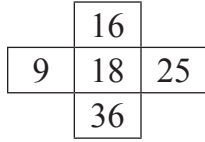
(A) 28

(B) 24

(C) 20

(D) 16

065.



ખાલી જગ્યાં પૂરો.

(A) 4

(B) 16

(C) 25

(D) 36

066. અરીસામાં અંગ્રેજી કેપીટલ (capital) અક્ષરો જોવામાં આવે તો કેટલાં અક્ષરો સરખા દેખાય છે.

(A) 10

(B) 11

(C) 12

(D) 13

067.

24	15	21
10		42
26	16	18

ખાલી જગ્યાં પુરો.

- (A) 08 (B) 16
(C) 15 (D) 18

068. જો $A = x^2 - y^2$

$B = 20$ અને $x + y = 10$ હોય તો.

- (A) A, B કરતા મોટી સંખ્યા છે. (B) B, A કરતાં મોટી સંખ્યા છે.
(C) A અને B સરખી સંખ્યા છે. (D) જવાબ માટે માહિતી અધૂરી છે.

069. એક વ્યક્તિ A અને B ઘડીયાળો કુલ રૂ. 650 માં ખરીદે છે. જો A ઘડીયાળ 20% નફાથી અને B ઘડીયાળ 25% નુકસાનથી વેચે છે તો બન્ને ઘડીયાળોની વેચાણ કિમ્મત સરખી થાય છે. આ સંજોગોમાં ઘડીયાળની કિમ્મત કેટલી હશે?

- (A) રૂ. 225 અને 425 (B) રૂ. 250 અને 400
(C) રૂ. 275 અને 375 (D) રૂ. 300 અને 350

070. 15 પાણીનાં પંપ સતત ચાલુ રાખવામાં આવે તો એક ટાંકી 7 દિવસમાં ભરાય છે. જો આ ટાંકી 5 દિવસમાં ભરવાની હોય તો કેટલા વધારાનાં પંપ જોઈએ.

- (A) 21 (B) 22
(C) 6 (D) 7

071. એક બગીચામાં બે પૈડાવાળાં વાલનો અને ચાર પૈડાવાળાં વાલનો મુકવામાં આવેલ છે. કુલ વાલનોની સંખ્યા કરતાં પૈડાની સંખ્યા, બમણાં કરતાં 100 વધારે છે. આ સંજોગોમાં બગીચામાં કેટલાં ચાર પૈડાવાળા વાલનો હશે?

- (A) 40 (B) 50
(C) 60 (D) 70

072. x_1 , x_2 અને x_3 આંકડાઓની સરેરાશ 14 છે. x_2 અને x_3 નો સરવાળો બમણો કરવામાં આવે તો 30 થાય છે. આ સંજોગોમાં x_1 નું મૂલ્ય કેટલું હશે?

- (A) 20 (B) 27
(C) 16 (D) 2

073. એક કુટુંબમાં 6 સભ્યો છે અને તેઓની માસિક સરેરાશ આવક રૂ. 2000 છે. એક વ્યક્તિના પગારમાં વાર્ષિક 14400 નો વધારો થાય છે. આ સંજોગોમાં કુટુંબની સરેરાશ આવક વધારા પછી કેટલી હશે?
- (A) 2000 (B) 2100
(C) 2200 (D) 200
074. વોશીંગ મશીન ક્યા સિદ્ધાંત ઉપર કાર્ય કરે છે? (Washing Machine)
- (A) કેન્દ્રત્યાગી-centrifugation (B) ડાયાલિસિસ-dialysis
(C) રીવર્સ અભિસરણ-reverse osmosis (D) પ્રસાર, ફેલાવો-diffusion
075. જર્મન સીલ્વર બનાવવામાં ક્યા ધાતુનો ઉપયોગ થતો નથી.
- (A) તાંબું (B) નિકલ
(C) જસત (D) સિલ્વર
076. RDX નામનાં વિસ્ફોટક પદાર્થની શોધ ક્યા દેશના, ક્યા વૈજ્ઞાનીકે કરેલ હતી?
- (A) ઓસ્ટ્રેલિયા-વિલફ્રેડ (B) ફ્રાન્સ-હેર્મીંગ
(C) જર્મન-હેનિગે (D) સ્વીડન-આલ્ફ્રેડ નોબલ
077. સાયકલ અને અન્ય વાહનોમાં બોલ બેરીંગ Ball bearing વપરાય છે કારણ કે-
- (A) પૈડું અને એક્સલ વચ્ચેનો ખરેખર ગાળો ઘટે છે અને ગતી વધે છે.
(B) પૈડું અને એક્સલ વચ્ચેનો વિસ્તાર વધે છે અને ગતી વધે છે.
(C) એક્સલ અને પૈડા વચ્ચેનો ઈફેક્ટીવ એરીયા ઘટે છે.
(D) A અને C
078. ઓપ્ટીકલ ફાયબર (optical fibre) ક્યા સિદ્ધાંત ઉપર કામગીરી કરે છે?
- (A) total internal reflection આંતરિક પ્રતિબિંબ
(B) refraction પ્રકાશનાં કિરણોનું અલગ અલગ દિશામાં પ્રત્યાવર્તન
(C) scattering સ્કેટરિંગ-વિખેરવું
(D) interference પ્રવાહમાં દખલગીરી કરવી.
079. નીચેનાં વાક્યો વાંચો:-
- (1) એક માણસ પાણીમાં પડેલ સીકકાને (coin) જુવે છે અને તે સીકકો છે તેની કરતાં વધારે પાસે દેખાય છે.
(2) એક માણસ પાણીમાંથી પાણી ઉપર રહેલ સીકકાને (coin) જુવે છે ત્યારે હોય તેનાં કરતાં વધારે ઉંચાઈ ઉપર સીકકો દેખાય છે. ઉપરોક્ત પૈકી કયું વાક્ય/વાક્યો સાચા છે.
- (A) 1 (B) 2
(C) 1 અને 2 (D) 1 અને 2 પૈકી એકપણ નહીં.

080. 100 ડેસીબલ ક્ષમતાનો અવાજ કોની સમકક્ષ છે?
 (A) સાંભળી શકાય તેવો અવાજ (B) સામાન્ય સંવાદ/સંભાષણ
 (C) ગીચ શેરીઓનો અવાજ (D) મશીન શોપમાંથી આવતો અવાજ
081. નીચેનાંમાંથી કયા માધ્યમમાં અવાજ (sound) ની ઝડપ સૌથી વધારે રહે છે?
 (A) 0° centigrade વાળી હવા (B) 100° centigrade વાળી હવા
 (C) પાણી (D) લાકડું
082. સામાન્ય રીતે ઉપયોગમાં લેવામાં આવતી ફ્લોરોસન્ટ ટ્યુબ લાઈટ “Fluorescent Tube Light” ઉપર શું લખાણ લખવામાં આવે છે?
 (A) 220 K (B) 273 K
 (C) 6500 K (D) 9000 K
083. હાલમાં UNO માં કેટલી ભાષાઓને ઓફીશીયલ લેંગ્વેજ (official language) તરીકે માન્યતા આપવામાં આવેલી છે.
 (A) 4 (B) 5
 (C) 6 (D) 7
084. નીચેનાં પૈકી કયા બંદર (Port) ને કોફી port (coffee port) તરીકે ઓળખવામાં આવે છે?
 (A) Sao Paulo (B) Santos
 (C) Rio-de-Jeneiro (D) Buenos Aires
085. સંસ્થાઓ અને તેના વડામથકને યોગ્ય રીતે ગોઠવો.
 (1) UNDP (A) નાયરોબી Nairobi
 (2) UNEP (B) વીએના Vienna
 (3) UNIDO (C) બેરની (Berne)
 (4) UPU (D) ન્યુયોર્ક
 (A) 1-A 2-B 3-C 4-D (B) 1-D 2-A 3-B 4-C
 (C) 1-B 2-C 3-D 4-A (D) 1-C 2-D 3-A 4-B
086. હાલમાં હાતુપુર (Hatupur) ડાયમન્ડ બ્લોકની હરાજી કરવામાં આવી. આ બ્લોક કયા રાજ્યમાં આવેલો છે?
 (A) આંધ્રપ્રદેશ (B) મધ્યપ્રદેશ
 (C) ઉત્તરપ્રદેશ (D) મેઘાલય

087. દેશમાં હવાની ગુણવત્તાનાં ધોરણો નક્કી કરવાની જવાબદારી કોને આપવામાં આવેલ છે.
- (A) સેન્ટ્રલ પોલ્યુશન કંટ્રોલ બોર્ડ (CPCB)
 (B) WHO
 (C) સ્વાસ્થ્ય મંત્રાલય
 (D) કાયદા મંત્રાલય
088. 2000 રૂ. ની નવી નોટની પાછળની બાજુએ મંગળયાનની પ્રતિકૃતિ દર્શાવવામાં આવી છે. રૂ. 500 ની નવી નોટ પાછળ કોની (થીમ) પ્રતિકૃતિ દર્શાવવામાં આવી છે?
- (A) લાલ કિલ્લો (B) બળદ સાથેનો ખેડુત
 (C) સંસદ ભવન (D) હિમાલય
089. પંજાબ અને હરીયાણામાં શિયાળાની મોસમમાં ખેડુતો જે પાકની વધેલી વસ્તુઓ બાળે છે અને દિલ્હીમાં પ્રદુષણ થાય છે તે ક્યા પાકની વધેલી વસ્તુઓ છે?
- (A) ચોખા (B) ચોખા અને ઘંઉ
 (C) ચોખા અને રોકડીયો પાક (D) ઘંઉ અને રોકડીયો પાક
090. નીચેનાં પૈકી ક્યા કરવેરા ઘટાડવામાં આવશે તો કાળાંનાણાનું સર્જન ઘટશે.
- (1) આવકવેરો.
 (2) મકાન/મિલ્કત ખરીદી ઉપરનો વેરો
 (3) કેપીટલ ગેન ટેક્સ Capital gain Tax
- (A) 1 અને 2 (B) 2 અને 3
 (C) 1 અને 3 (D) 1, 2 અને 3
091. વાહન વ્યવહારના ક્ષેત્રમાં “Hyperloop One” નો શું અર્થ થાય છે?
- (1) માણસો અને સામાનનું, વિમાનની ગતીથી પણ જમીન ઉપર વહન કરવું.
 (2) કોઈપણ જગ્યાએ ઉભી રહ્યા સિવાય ટ્રેનનો પ્રવાસ
- (A) પ્રથમ વાક્ય (B) બીજુ વાક્ય
 (C) પ્રથમ અને બીજુ વાક્ય (D) ઉપરોક્ત પૈકી એકપણ નહીં
092. હાલમાં જાહેર કરવામાં આવેલ “પ્રોજેક્ટ શાઈન” ક્યા હેતુ માટે છે?
- (A) આદિવાસી બાળકોને સારી શાળામાં પ્રવેશ માટે તૈયાર કરવા.
 (B) ગરીબ બાળકોને મફતમાં તાલીમ આપવી અને રોજગારીની તકો આપવી.
 (C) ખાનગી શાળાઓની સમકક્ષ બોર્ડિંગ શાળાઓનું સંચાલન કરવું.
 (D) શહેરનાં ગરીબ બાળકોને સારૂ શિક્ષણ મળે તે માટે પ્રયત્નો કરવા.

093. જીટમો (gitmo) જેલ કે જે જગ્યાએ માનવ અધિકારનો ભંગ થયેલ છે તે ક્યા ટાપુ ઉપર આવેલી છે? Guantanamo Bay detention camp
 (A) હવાઈ (Hawaii) (B) Puerto Rico
 (C) Cuba (D) Jamaica
094. 2017 માં જે “વાયબ્રંટ ગુજરાત સમીટ” યોજાયેલ હતી તે કેટલામી સમીટ હતી.
 (A) 5 (B) 6
 (C) 7 (D) 8
095. નાણાં સંસ્થાઓ દ્વારા “Micro Finance” આપવામાં આવે છે. તેના મુખ્ય હેતુઓ ક્યા છે?
 (1) ધિરાણ આપવું
 (2) બચતને પ્રોત્સાહન આપવું
 (3) વિમા નુ રક્ષણ આપવું
 (4) નાણાંની લેવડ દેવડની સગવડો આપવી.
 (A) 1, 2 (B) 1, 3, 4
 (C) 1, 2, 4 (D) 1, 2, 3 અને 4
096. રાજ્ય ગાંધી ખેલ રત્ન એવોર્ડ-2016 કેટલાં જણાને આપવામાં આવેલ છે?
 (A) 3 (B) 4
 (C) 5 (D) 6
097. 2016માં ઓલમ્પીકમાં સિલ્વર અને બ્રોઝ મેડલ મેળવનાર ભારતની કઈ મહિલાઓ છે?
 (1) સાક્ષી મલીક
 (2) પી. વી. સીધુ
 (3) દીપા કરમરકર
 (A) માત્ર 1 અને 3 (B) માત્ર 2 અને 3
 (C) 1 અને 2 (D) 1, 2 અને 3 પૈકી કોઈપણ નહીં.
098. અર્જુન એવોર્ડ (Arjuna Award) ની સ્થાપના ક્યારે કરવામાં આવેલી હતી અને હાલમાં એવોર્ડમાં કેટલી રકમ આપવામાં આવે છે?
 (A) 1961 અને રૂ. 5,00,000 (B) 1961 અને રૂ. 7,50,000
 (C) 1971 અને 1,00,000 (D) 1981 અને 2,00,000
099. ફોરેસ્ટ રાઈટ એક્ટ Forest Rights Act ક્યારે અમલમાં મુકવામાં આવેલ હતો?
 (A) 2005 (B) 2006
 (C) 2007 (D) 2008

100. “Memorandum of Procedure” શબ્દો હાલમાં સમાચારમાં આવે છે. તે કઈ બાબત સાથે સંકળાયેલા છે?
- (A) હવાઈદળની કાર્યક્ષમતાં વધારવા
- (B) ન્યાયાલયોમાં નિમણૂક માટે
- (C) અશાંત વિસ્તારમાં કાયદો વ્યવસ્થા જાળવવો.
- (D) જાહેર ક્ષેત્રની બેંકોમાં કામકાજમાં એકરૂપતાં લાવવા

SUGGESTION OF THE CANDIDATE IN RESPECT OF THE PROVISIONAL KEY

NAME OF THE POST :

ADVERTISEMENT NO. :

DATE OF PRELIMINARY TEST :29/01/2017

SUBJECT :

Question No.&Question of website published Question paper	Answer as per Provisional Key (A/B/C/D)	Candidate's Suggested Answer (A/B/C/D)	Candidate's Application		
			Details of Application	Resource Material (Copy to be Enclosed)	Details of the Website
				(1)Name of The Book (2) Page No. (3) Name of the Author (4) Name and Address of the Publisher (5) Year of the Publication	Name and Link of the Website

Note: - Application for each question shall be made on Separate page in the above given format. All objections shall be sent upto dt.16/02/2017

Name of the Candidate :-

Roll No :-

Address :-

Signature of the Candidate.....

પ્રોવિઝિનલ આન્સર કી અંગે ઉમેદવારના સૂચનો

જગ્યાનું નામ :

જાહેરાત નં. :

પ્રાથમિક કસોટીની તારીખ : ૨૯/૦૧/૨૦૧૭

વિષય :

વેબસાઇટ પર મુકેલ પ્રશ્નપત્ર નો પ્રશ્ન ક્રમાંક અને પ્રશ્ન	પ્રોવિઝિનલ આન્સર કી મુજબ જવાબ (A/B/C/D)	ઉમેદવારનો સૂચિત જવાબ (A/B/C/D)	ઉમેદવારની રજૂઆત.		
			રજૂઆતની વિગત.	સંદર્ભ/ માહિતી સ્ત્રોત (નકલ બિડવી.)	વેબસાઇટની વિગત
				(૧) પુસ્તકનું નામ. (૨) પાના નંબર. (૩) લેખકનું નામ. (૪) પ્રકાશકનું નામ./ સરનામું. (૫) પ્રકાશનનું વર્ષ.	વેબસાઇટનું નામ.

નોંધ:- એક પાના ઉપર એક જ પ્રશ્નની રજૂઆત લખવી, અન્ય પ્રશ્ન માટે અલગ પાન વાપરવું. તમામ સૂચનો તા.૧૬/૨/૨૦૧૭ સુધી મોકલી શકાશે.

ઉમેદવારનું નામ :-

બેઠક નં. :-

સરનામું :-

ઉમેદવારની સહી